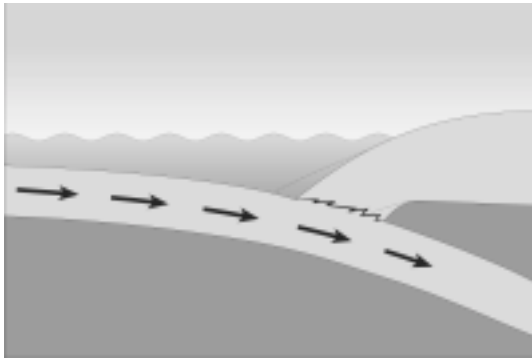


Name: \_\_\_\_\_

Klasse: \_\_\_\_\_

# Seebeben und Tsunamis

1. Tsunamis entstehen häufig nach Seebeben. Erkläre mithilfe der Abbildungen, wie sich durch ein Seebeben an einer Subduktionszone ein Tsunami bilden kann.



---

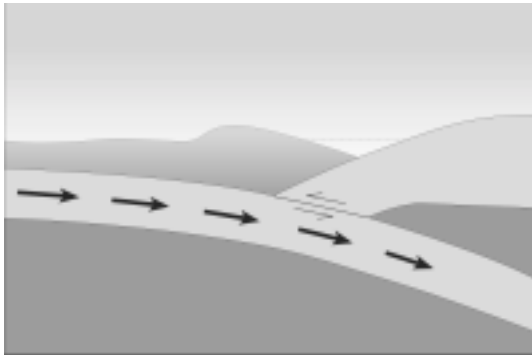
---

---

---

---

---



---

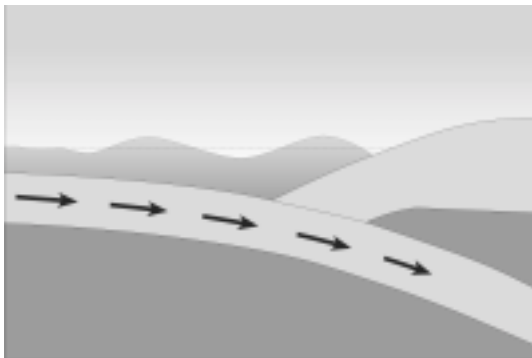
---

---

---

---

---



---

---

---

---

---

---

2. Tsunamis haben oft verheerende Folgen für die Küstengebiete. Nenne solche Folgen.

---

---

---

---