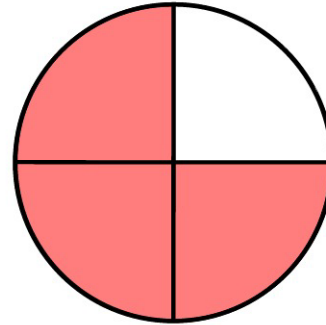
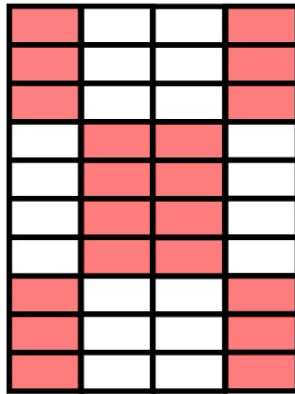



Name: _____

Klasse: _____

Grafische Darstellung von Prozenten – Lösung

1. Lies in den Diagrammen die dargestellten Bruchteile ab und wandle sie in Prozentzahlen um.



$$\frac{6}{10} = \frac{60}{100} = 60\%$$

$$\frac{20}{40} = \frac{1}{2} = \frac{50}{100} = 50\%$$

$$\frac{3}{4} = \frac{75}{100} = 75\%$$

2. Stelle folgende Prozentzahlen grafisch dar.

a) 40 %

b) 45 %

c) 25 %

