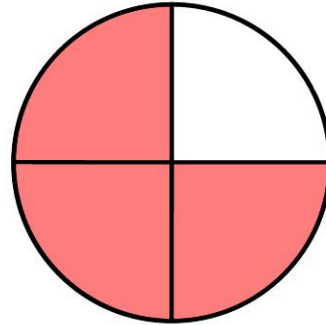
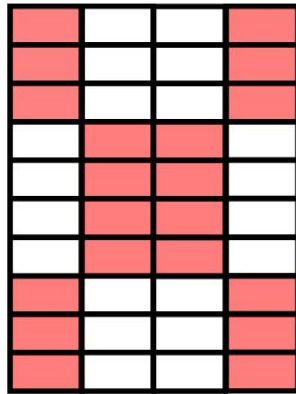



Name: \_\_\_\_\_

Klasse: \_\_\_\_\_

## Grafische Darstellung von Prozenten

1. Lies in den Diagrammen die dargestellten Bruchteile ab und wandle sie in Prozentzahlen um.



\_\_\_\_\_

\_\_\_\_\_

\_\_\_\_\_

2. Stelle folgende Prozentzahlen grafisch dar.

a) 40 %

b) 45 %

c) 25 %

