

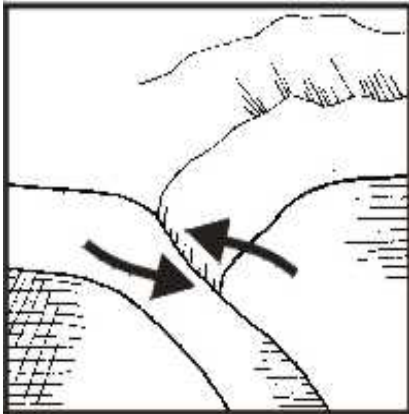


Name: \_\_\_\_\_

Klasse: \_\_\_\_\_

# Entstehung von Tsunamis

1. Erkläre anhand der drei Abbildungen die wichtigsten Ursachen für die Entstehung von Tsunamis.



---

---

---

---

---

---

---

---

---

---

---

---

---

---

---

---

---

---

---

---

---

---

---

---

2. Warum stellen Tsunamis für die Menschen in den betroffenen Küstenregionen eine große Bedrohung dar?

---

---

---

---

---

---